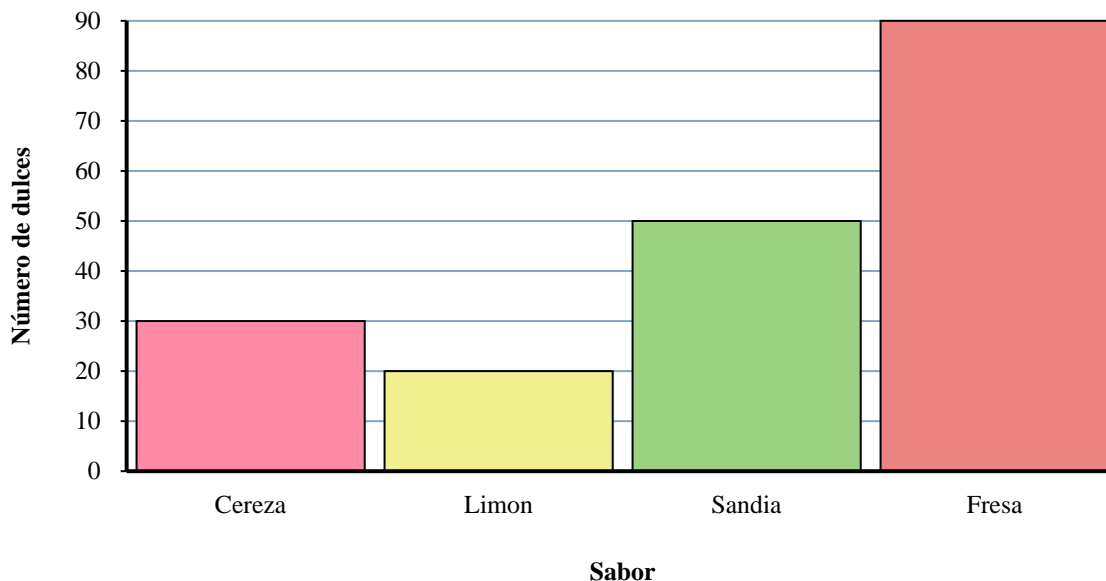




Resuelve cada problema.

Bolsa de dulces



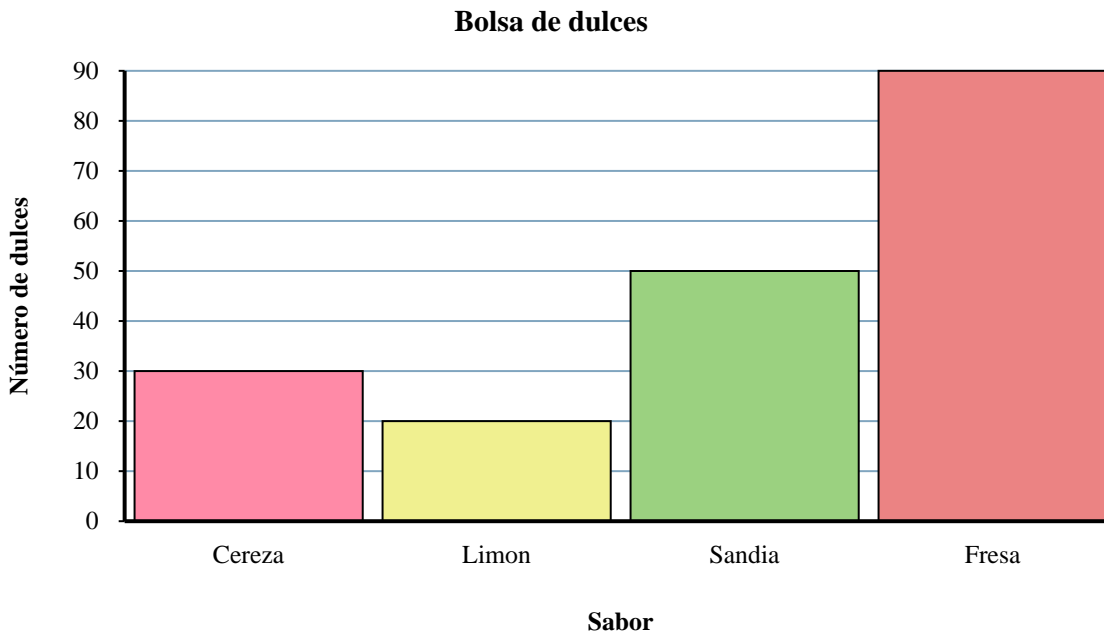
Respuestas

1. _____
2. _____
3. _____
4. _____
5. _____
6. _____
7. _____
8. _____
9. _____
10. _____

- 1) ¿Cuántos dulces más de Sandía habían que de Cereza?
- 2) ¿Cuál es el número total de dulces de Sandía y Fresa?
- 3) ¿Cuántas dulces hay en total en la bolsa?
- 4) ¿Qué sabor tiene el menor número de dulces en la bolsa?
- 5) ¿Hubo menos dulces Cereza o dulces Limon?
- 6) ¿Qué sabor tenía exactamente 30 dulces en la bolsa?
- 7) ¿Hubo más dulces Cereza o dulces Fresa?
- 8) ¿Cuántos dulces menos de Limon habían que de Sandía?
- 9) ¿Cuántos dulces eran de Sandía?
- 10) ¿Cuál es la diferencia en el número de dulces de Limon y el número de piezas Fresa?



Resuelve cada problema.



Respuestas

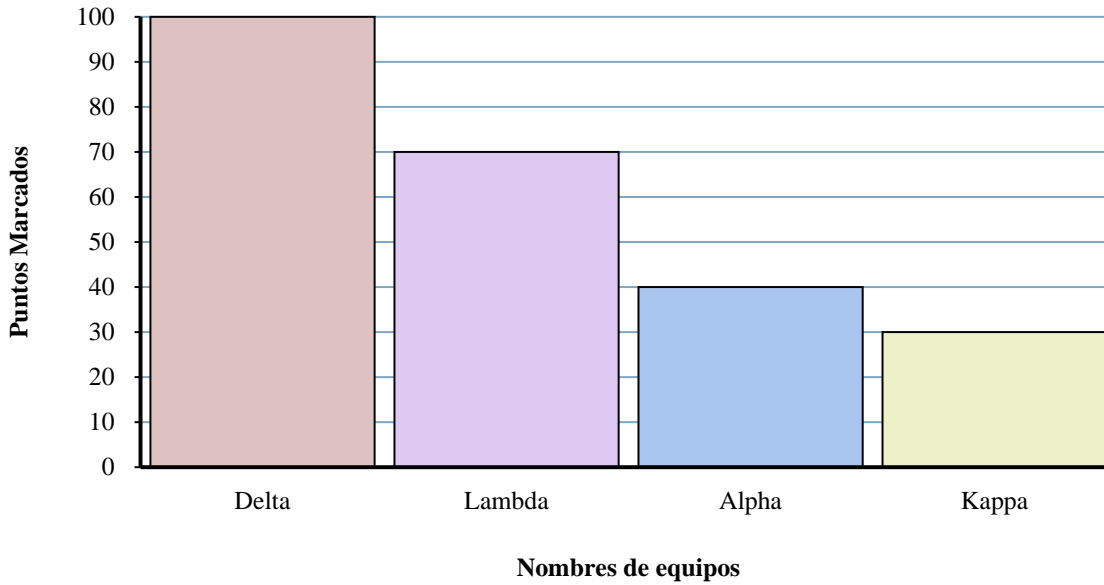
- 1) ¿Cuántos dulces más de Sandía habían que de Cereza?
- 2) ¿Cuál es el número total de dulces de Sandía y Fresa?
- 3) ¿Cuántas dulces hay en total en la bolsa?
- 4) ¿Qué sabor tiene el menor número de dulces en la bolsa?
- 5) ¿Hubo menos dulces Cereza o dulces Limon?
- 6) ¿Qué sabor tenía exactamente 30 dulces en la bolsa?
- 7) ¿Hubo más dulces Cereza o dulces Fresa?
- 8) ¿Cuántos dulces menos de Limon habían que de Sandía?
- 9) ¿Cuántos dulces eran de Sandía?
- 10) ¿Cuál es la diferencia en el número de dulces de Limon y el número de piezas Fresa?

1. 20
2. 140
3. 190
4. Limon
5. Limon
6. Cereza
7. Fresa
8. 30
9. 50
10. 70



Resuelve cada problema.

Resultados Trivia



Respuestas

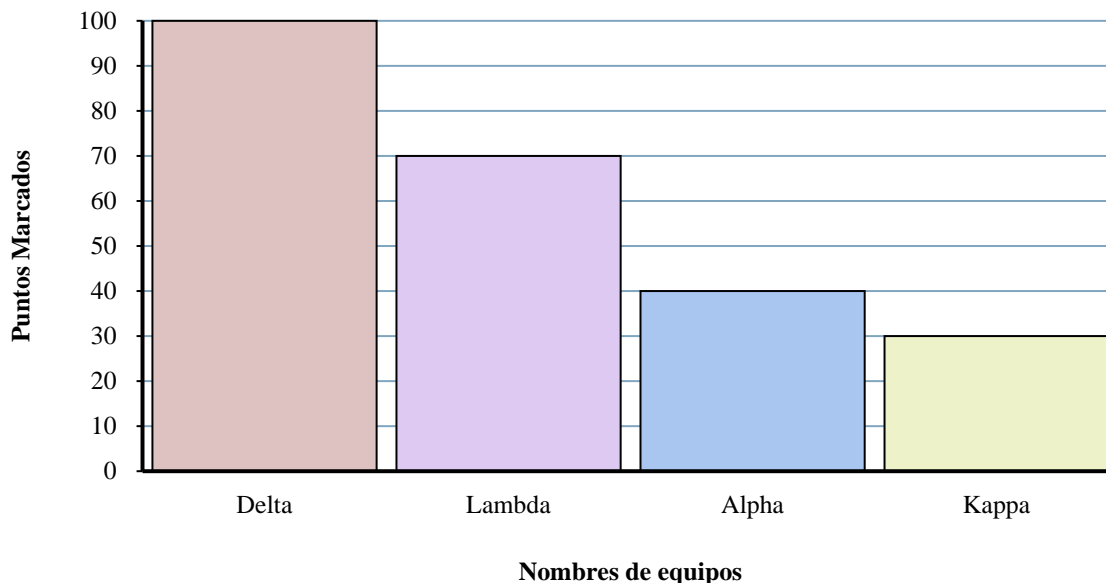
1. _____
2. _____
3. _____
4. _____
5. _____
6. _____
7. _____
8. _____
9. _____
10. _____

- 1) ¿Qué equipo anotó más puntos?
- 2) ¿Qué equipo anotó menos puntos?
- 3) ¿El equipo Lambda o el equipo Alpha anotaron menos puntos?
- 4) ¿Cuál es el número total de puntos obtenidos en el juego?
- 5) ¿El equipo Kappa o equipo Lambda anotaron más puntos?
- 6) ¿Cuántos puntos hizo el equipo Delta?
- 7) ¿Cual es el puntaje total marcado por Kappa y Alpha?
- 8) ¿Cuántos puntos menos hizo equipo Kappa que equipo Delta?
- 9) ¿Qué equipo anotó 30 puntos?
- 10) ¿Cuál es la diferencia en el número de puntos que Delta anotó y el número que Alpha anotó?



Resuelve cada problema.

Resultados Trivia



- 1) ¿Qué equipo anotó más puntos?
- 2) ¿Qué equipo anotó menos puntos?
- 3) ¿El equipo Lambda o el equipo Alpha anotaron menos puntos?
- 4) ¿Cuál es el número total de puntos obtenidos en el juego?
- 5) ¿El equipo Kappa o equipo Lambda anotaron más puntos?
- 6) ¿Cuántos puntos hizo el equipo Delta?
- 7) ¿Cual es el puntaje total marcado por Kappa y Alpha?
- 8) ¿Cuántos puntos menos hizo equipo Kappa que equipo Delta?
- 9) ¿Qué equipo anotó 30 puntos?
- 10) ¿Cuál es la diferencia en el número de puntos que Delta anotó y el número que Alpha anotó?

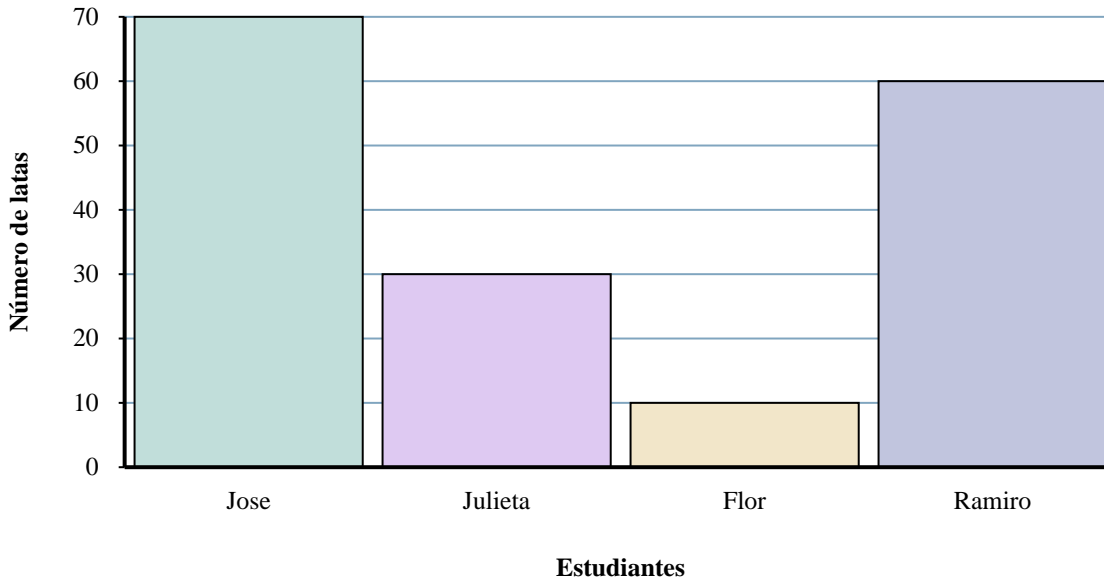
Respuestas

1. **Delta**
2. **Kappa**
3. **Alpha**
4. **240**
5. **Lambda**
6. **100**
7. **70**
8. **70**
9. **Kappa**
10. **60**



Resuelve cada problema.

Latas recolectadas



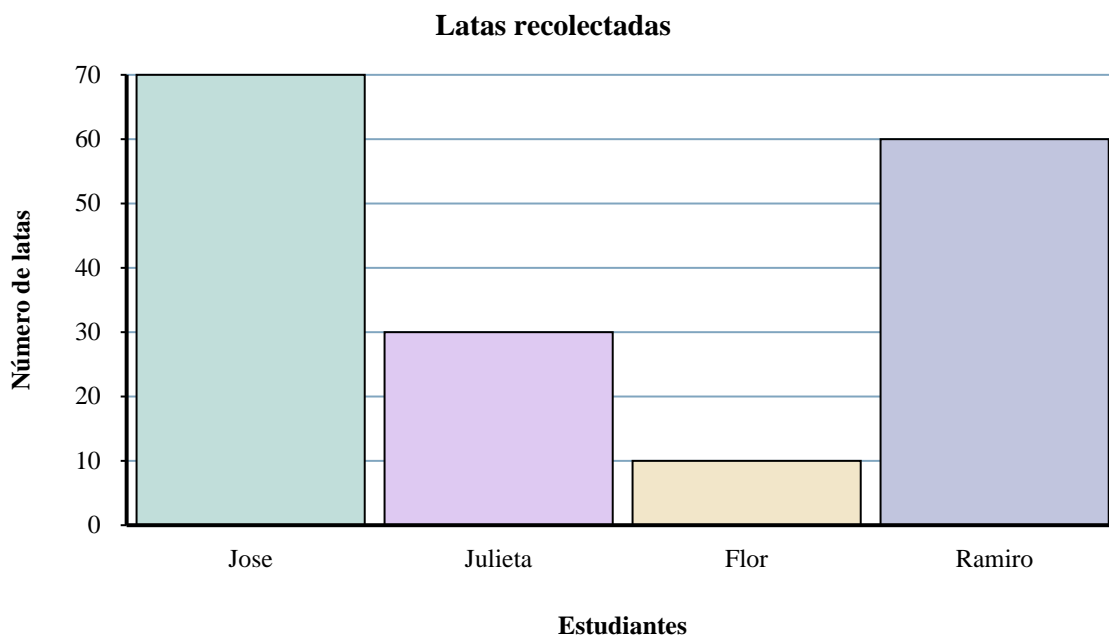
Respuestas

1. _____
2. _____
3. _____
4. _____
5. _____
6. _____
7. _____
8. _____
9. _____
10. _____

- 1) ¿Quién recogió más latas?
- 2) ¿Cuál es la cantidad combinada de latas Jose recolectó y la cantidad recolectadas por Julieta?
- 3) ¿Quién recogió exactamente 10 latas?
- 4) ¿Cuántas latas menos recolectó Julieta que Ramiro?
- 5) ¿Cuántas latas más recolectó Jose que Flor?
- 6) ¿Cuántas latas recogió Julieta?
- 7) ¿Quién recogió la menor cantidad de latas?
- 8) ¿Cuál es la diferencia en la cantidad de latas Jose recolectó y la cantidad recolectadas por Ramiro ?
- 9) ¿Cuántas latas en total recolectaron todos los estudiantes?
- 10) ¿Quién recogió menos latas? ¿Julieta o Flor?



Resuelve cada problema.



Respuestas

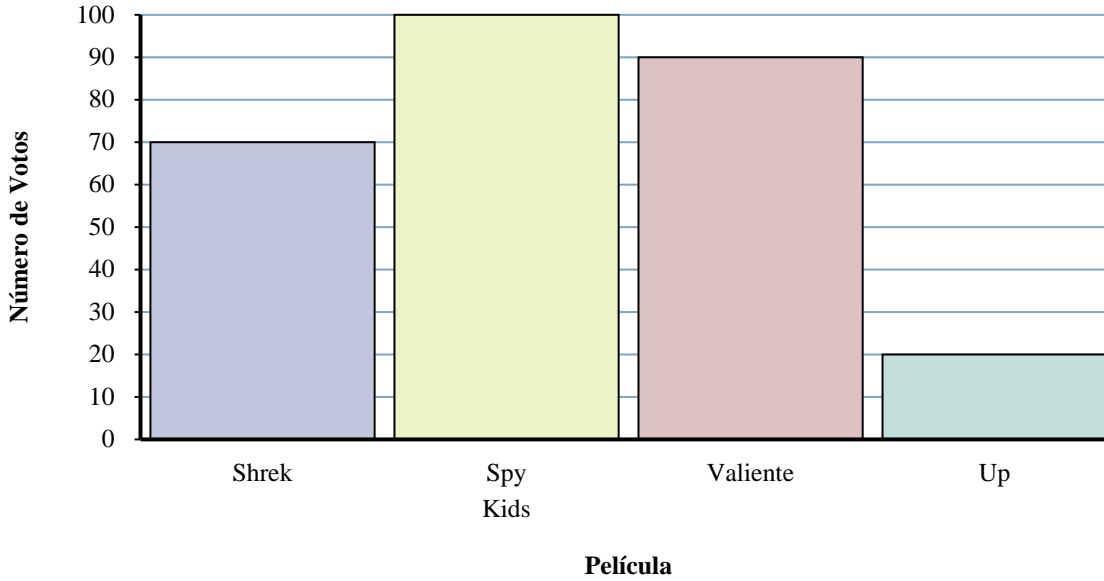
- 1) ¿Quién recogió más latas?
- 2) ¿Cuál es la cantidad combinada de latas Jose recolectó y la cantidad recolectadas por Julieta?
- 3) ¿Quién recogió exactamente 10 latas?
- 4) ¿Cuántas latas menos recolectó Julieta que Ramiro?
- 5) ¿Cuántas latas más recolectó Jose que Flor?
- 6) ¿Cuántas latas recogió Julieta?
- 7) ¿Quién recogió la menor cantidad de latas?
- 8) ¿Cuál es la diferencia en la cantidad de latas Jose recolectó y la cantidad recolectadas por Ramiro ?
- 9) ¿Cuántas latas en total recolectaron todos los estudiantes?
- 10) ¿Quién recogió menos latas? ¿Julieta o Flor?

1. **Jose**
2. **100**
3. **Flor**
4. **30**
5. **60**
6. **30**
7. **Flor**
8. **10**
9. **170**
10. **Flor**



Resuelve cada problema.

Qué película ver



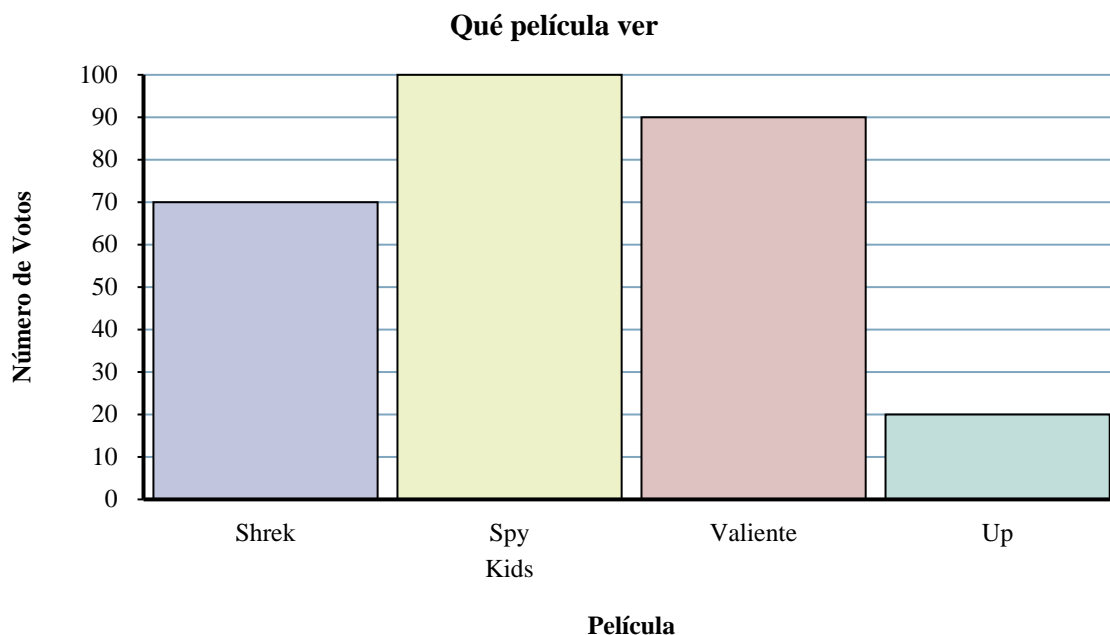
Respuestas

1. _____
2. _____
3. _____
4. _____
5. _____
6. _____
7. _____
8. _____
9. _____
10. _____

- 1) ¿Cuántas personas votaron por Shrek?
- 2) ¿Qué película recibió la mayoría de votos?
- 3) ¿Qué película obtuvo menos votos?
- 4) ¿Cuántos votos menos tenía Up que Spy Kids?
- 5) ¿Qué película recibió exactamente 20 votos?
- 6) ¿Menos estudiantes votaron por Valiente o Spy Kids?
- 7) ¿Cuál es la diferencia en el número de personas que votaron por Valiente y los que votaron por Shrek?
- 8) ¿Cuál es el número total de estudiantes que votaron?
- 9) ¿Cuántos votos más tenía Spy Kids que Shrek?
- 10) ¿Cuál es el número total de personas que votaron por Up y Shrek?



Resuelve cada problema.



Respuestas

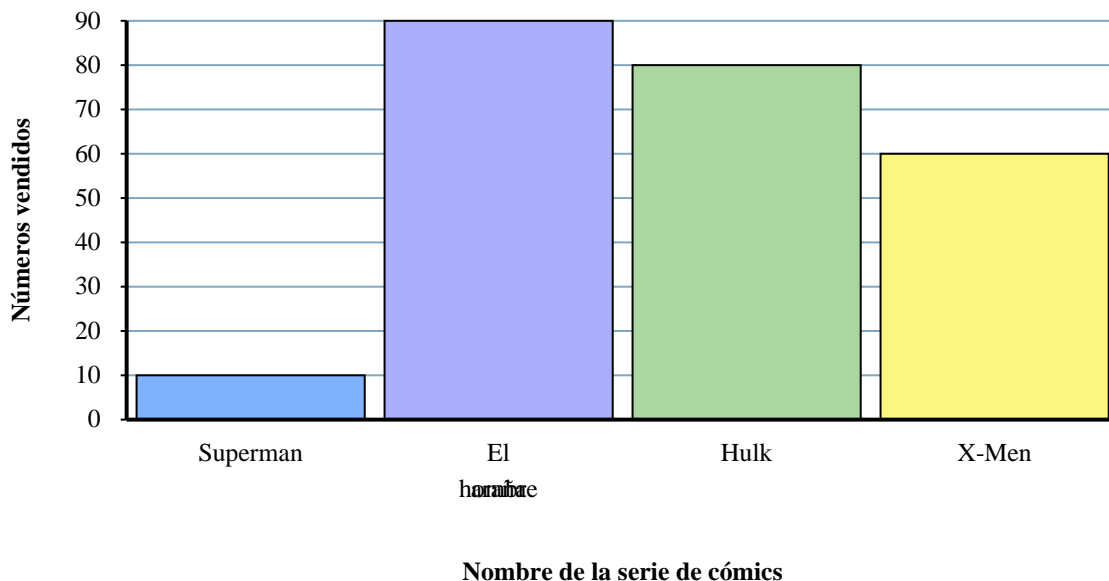
- 1) ¿Cuántas personas votaron por Shrek?
- 2) ¿Qué película recibió la mayoría de votos?
- 3) ¿Qué película obtuvo menos votos?
- 4) ¿Cuántos votos menos tenía Up que Spy Kids?
- 5) ¿Qué película recibió exactamente 20 votos?
- 6) ¿Menos estudiantes votaron por Valiente o Spy Kids?
- 7) ¿Cuál es la diferencia en el número de personas que votaron por Valiente y los que votaron por Shrek?
- 8) ¿Cuál es el número total de estudiantes que votaron?
- 9) ¿Cuántos votos más tenía Spy Kids que Shrek?
- 10) ¿Cuál es el número total de personas que votaron por Up y Shrek?

1. **70**
2. **Spy Kids**
3. **Up**
4. **80**
5. **Up**
6. **Valiente**
7. **20**
8. **280**
9. **30**
10. **90**



Resuelve cada problema.

Cómics Vendidos



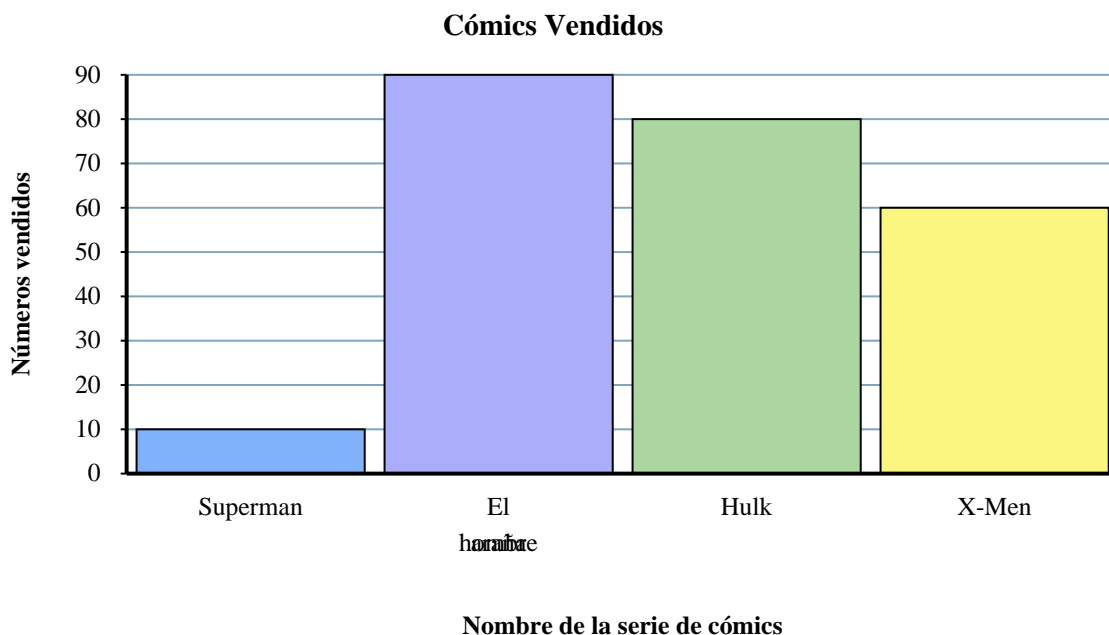
Respuestas

1. _____
2. _____
3. _____
4. _____
5. _____
6. _____
7. _____
8. _____
9. _____
10. _____

- 1) ¿Cuál es la diferencia en el número de El hombre araña vendidos y el número de Superman vendidos?
- 2) ¿Cuántos números de Superman se vendieron?
- 3) ¿Qué serie de cómics vendieron exactamente 60 números?
- 4) ¿Qué serie de cómics fueron más vendidos, Hulk o X-Men?
- 5) ¿Cuál es el número total de números vendidos de todos los cómics?
- 6) ¿Cuántos números más de El hombre araña fueron vendidos que de Hulk?
- 7) ¿Cuántos números más de Superman fueron vendidos que de X-Men?
- 8) ¿Cuál es el número total de números vendidos de Superman y Hulk?
- 9) ¿Qué serie de cómics vendió la menor cantidad de números?
- 10) ¿Qué serie de cómics vendió la mayor cantidad de números?



Resuelve cada problema.



Respuestas

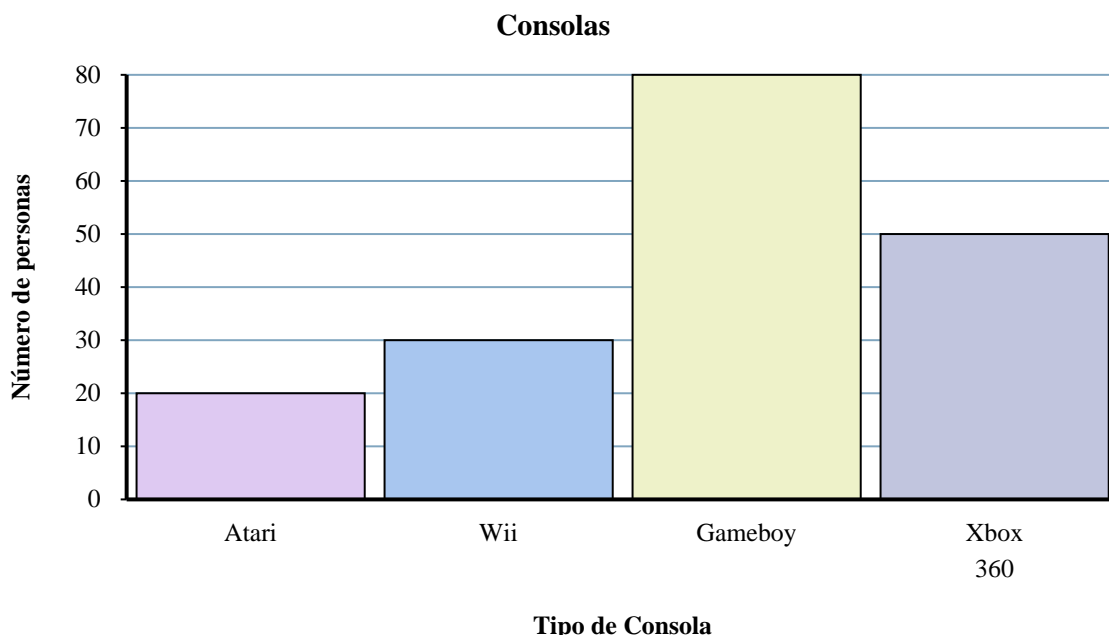
- 1) ¿Cuál es la diferencia en el número de El hombre araña vendidos y el número de Superman vendidos?
- 2) ¿Cuántos números de Superman se vendieron?
- 3) ¿Qué serie de cómics vendieron exactamente 60 números?
- 4) ¿Qué serie de cómics fueron más vendidos, Hulk o X-Men?
- 5) ¿Cuál es el número total de números vendidos de todos los cómics?
- 6) ¿Cuántos números más de El hombre araña fueron vendidos que de Hulk?
- 7) ¿Cuántos números más de Superman fueron vendidos que de X-Men?
- 8) ¿Cuál es el número total de números vendidos de Superman y Hulk?
- 9) ¿Qué serie de cómics vendió la menor cantidad de números?
- 10) ¿Qué serie de cómics vendió la mayor cantidad de números?

1. 80
2. 10
3. X-Men
4. Hulk
5. 240
6. 10
7. 50
8. 90
9. Superman
10. El hombre araña



Resuelve cada problema.

Respuestas

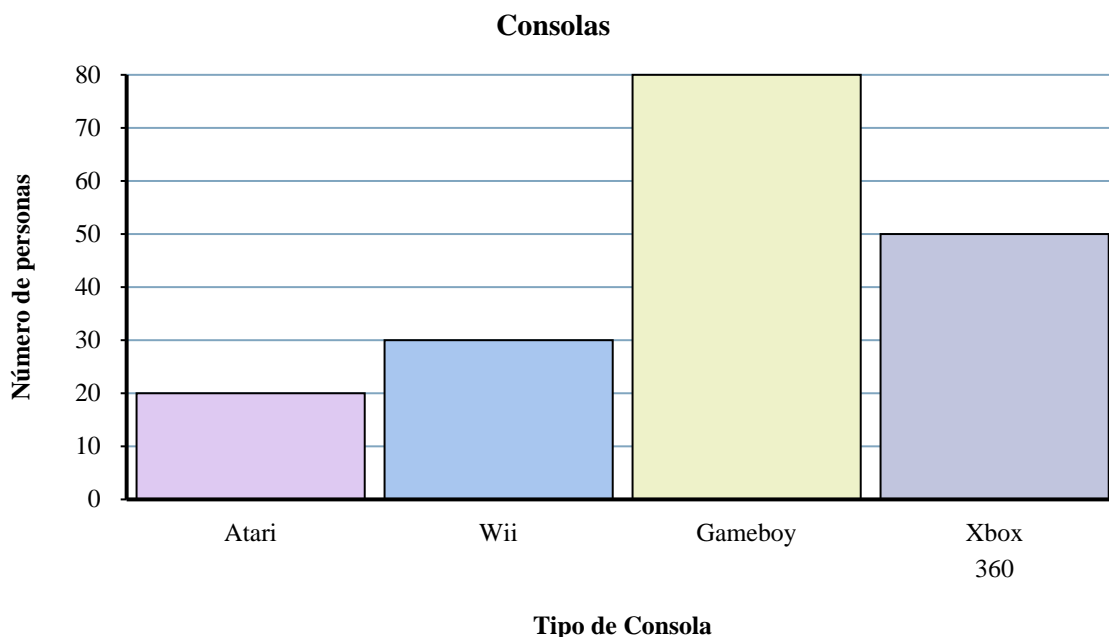


1. _____
2. _____
3. _____
4. _____
5. _____
6. _____
7. _____
8. _____
9. _____
10. _____

- 1) ¿Cuál es el número total de Xbox 360s y Gameboys?
- 2) ¿Qué consola tenían exactamente 30 personas?
- 3) ¿Cuántas personas más poseían un Gameboy que un Atari?
- 4) ¿Cuál es la diferencia en el número de personas que poseían un Xbox 360 y el número que poseía un Wii?
- 5) ¿Qué consola tenían el menor número de personas?
- 6) ¿Cuántas personas menos poseían un Atari que un Wii?
- 7) ¿Cuántas personas poseían un Xbox 360?
- 8) ¿Cuántas consolas en total poseían las personas?
- 9) ¿Menos personas poseen un Xbox 360 o un Atari?
- 10) ¿Más personas poseen un Gameboys o un Wiis?



Resuelve cada problema.



Respuestas

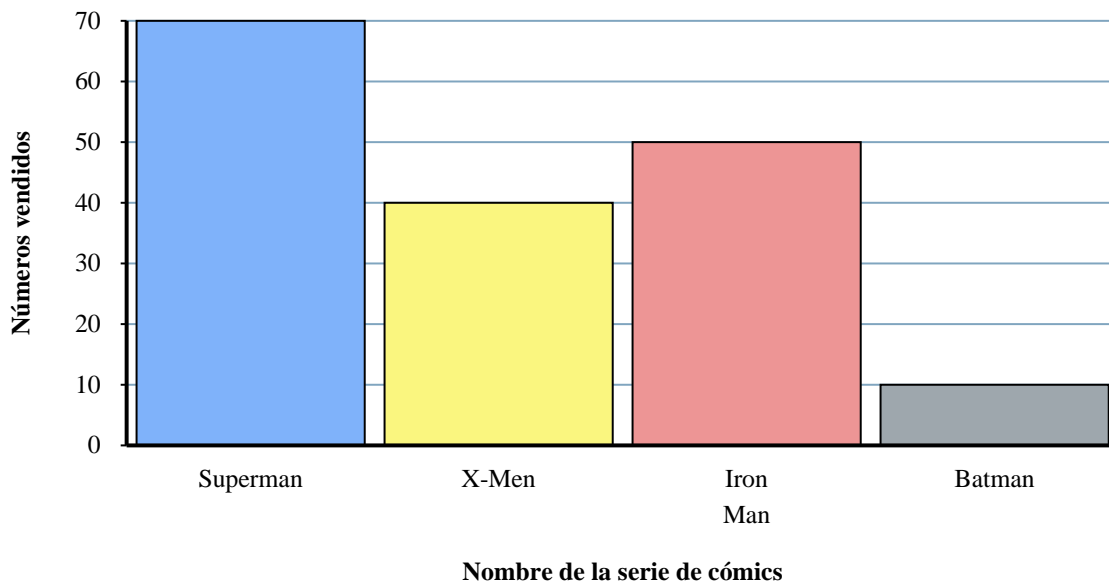
- 1) ¿Cuál es el número total de Xbox 360s y Gameboys?
- 2) ¿Qué consola tenían exactamente 30 personas?
- 3) ¿Cuántas personas más poseían un Gameboy que un Atari?
- 4) ¿Cuál es la diferencia en el número de personas que poseían un Xbox 360 y el número que poseía un Wii?
- 5) ¿Qué consola tenían el menor número de personas?
- 6) ¿Cuántas personas menos poseían un Atari que un Wii?
- 7) ¿Cuántas personas poseían un Xbox 360?
- 8) ¿Cuántas consolas en total poseían las personas?
- 9) ¿Menos personas poseen un Xbox 360 o un Atari?
- 10) ¿Más personas poseen un Gameboys o un Wiis?

1. **130**
2. **Wii**
3. **60**
4. **20**
5. **Atari**
6. **10**
7. **50**
8. **180**
9. **Atari**
10. **Gameboy**



Resuelve cada problema.

Cómics Vendidos



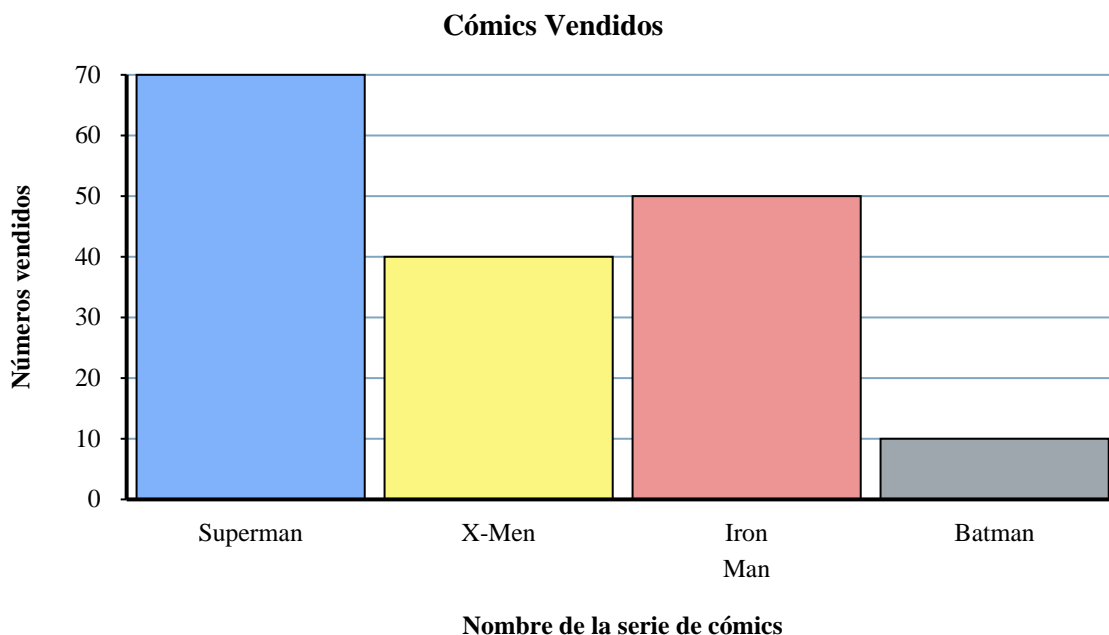
Respuestas

1. _____
2. _____
3. _____
4. _____
5. _____
6. _____
7. _____
8. _____
9. _____
10. _____

- 1) ¿Cuántos números más de Batman fueron vendidos que de Superman?
- 2) ¿Cuántos números más de Iron Man fueron vendidos que de X-Men?
- 3) ¿Qué serie de cómics vendió la mayor cantidad de números?
- 4) ¿Qué serie de cómics fueron más vendidos, X-Men o Superman?
- 5) ¿Cuál es la diferencia en el número de Batman vendidos y el número de Iron Man vendidos?
- 6) ¿Cuál es el número total de números vendidos de X-Men y Batman?
- 7) ¿Qué serie de cómics fueron menos vendidos Iron Man o Superman?
- 8) ¿Cuál es el número total de números vendidos de todos los cómics?
- 9) ¿Cuántos números de Iron Man se vendieron?
- 10) ¿Qué serie de cómics vendieron exactamente 10 números?



Resuelve cada problema.



Respuestas

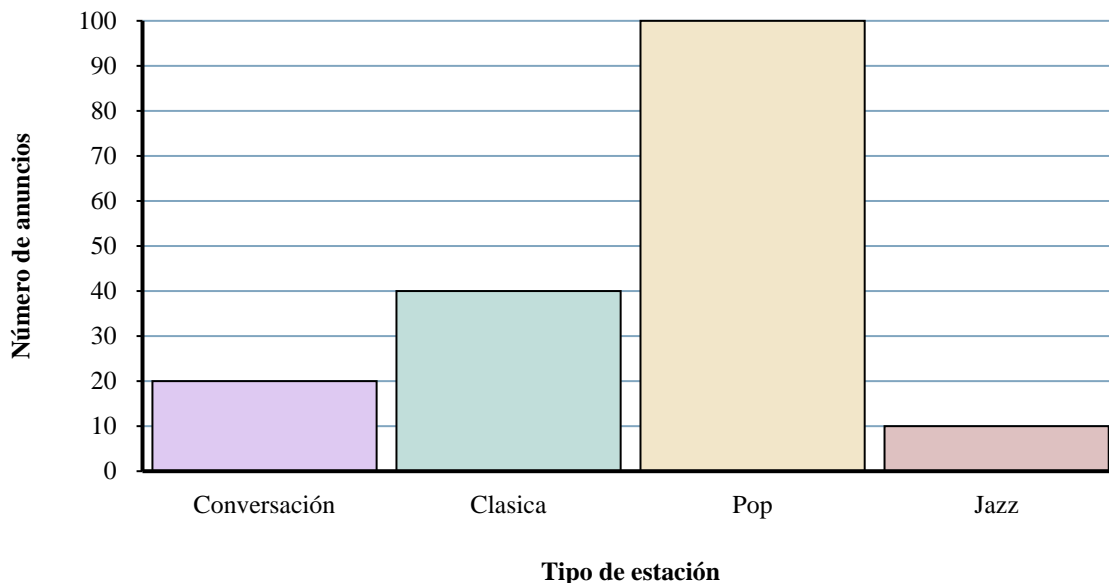
- 1) ¿Cuántos números más de Batman fueron vendidos que de Superman?
- 2) ¿Cuántos números más de Iron Man fueron vendidos que de X-Men?
- 3) ¿Qué serie de cómics vendió la mayor cantidad de números?
- 4) ¿Qué serie de cómics fueron más vendidos, X-Men o Superman?
- 5) ¿Cuál es la diferencia en el número de Batman vendidos y el número de Iron Man vendidos?
- 6) ¿Cuál es el número total de números vendidos de X-Men y Batman?
- 7) ¿Qué serie de cómics fueron menos vendidos Iron Man o Superman?
- 8) ¿Cuál es el número total de números vendidos de todos los cómics?
- 9) ¿Cuántos números de Iron Man se vendieron?
- 10) ¿Qué serie de cómics vendieron exactamente 10 números?

1. 60
2. 10
3. Superman
4. Superman
5. 40
6. 50
7. Iron Man
8. 170
9. 50
10. Batman



Resuelve cada problema.

Diferentes estaciones de radio



Respuestas

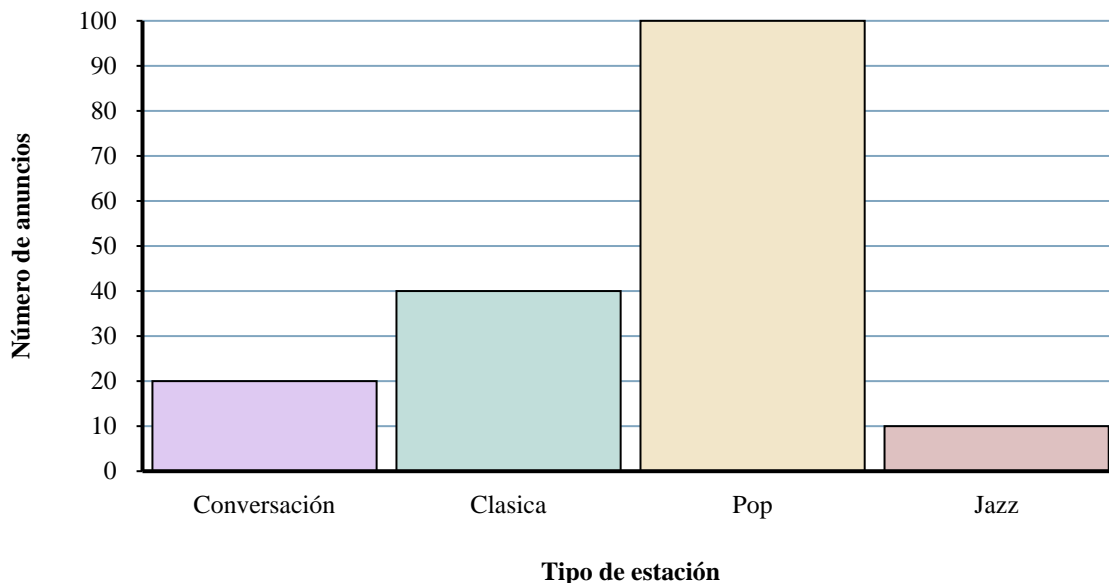
1. _____
2. _____
3. _____
4. _____
5. _____
6. _____
7. _____
8. _____
9. _____
10. _____

- 1) ¿Cuántos anuncios más tenía la estación Clasica que la estación Conversación?
- 2) ¿Cuántos anuncios menos tuvo la estación Jazz que la estación Conversación?
- 3) ¿Cuál es el número total de anuncios en todas las estaciones?
- 4) ¿Cuál es el número total de anuncios en la estación Jazz y la estación Clasica?
- 5) ¿Qué estación tenía la mayoría de los anuncios?
- 6) ¿Cuántos anuncios estaban en la estación Pop?
- 7) ¿Hubo más anuncios en la estación Pop o la estación Clasica?
- 8) ¿Qué estación tenía exactamente 10 anuncios?
- 9) Hubo un menor número de anuncios en la estación Pop o la estación Conversación?
- 10) ¿Qué estación tenía la menor cantidad de anuncios?



Resuelve cada problema.

Diferentes estaciones de radio



Respuestas

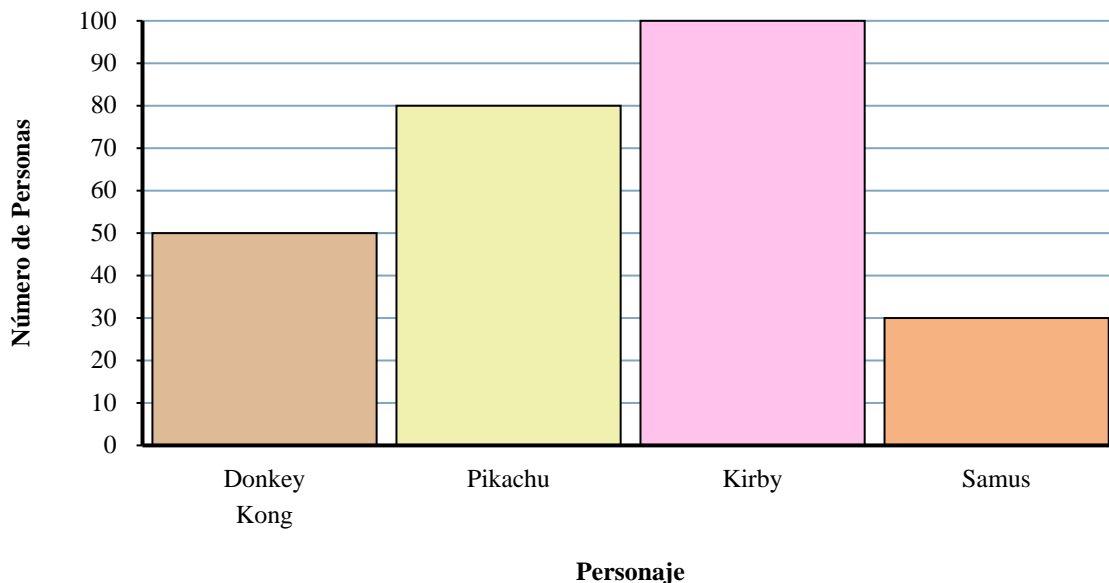
- 1) ¿Cuántos anuncios más tenía la estación Clasica que la estación Conversación?
- 2) ¿Cuántos anuncios menos tuvo la estación Jazz que la estación Conversación?
- 3) ¿Cuál es el número total de anuncios en todas las estaciones?
- 4) ¿Cuál es el número total de anuncios en la estación Jazz y la estación Clasica?
- 5) ¿Qué estación tenía la mayoría de los anuncios?
- 6) ¿Cuántos anuncios estaban en la estación Pop?
- 7) ¿Hubo más anuncios en la estación Pop o la estación Clasica?
- 8) ¿Qué estación tenía exactamente 10 anuncios?
- 9) Hubo un menor número de anuncios en la estación Pop o la estación Conversación?
- 10) ¿Qué estación tenía la menor cantidad de anuncios?

1. **20**
2. **10**
3. **170**
4. **50**
5. **Pop**
6. **100**
7. **Pop**
8. **Jazz**
9. **Conversación**
10. **Jazz**



Resuelve cada problema.

Personaje de juegos favorito



Respuestas

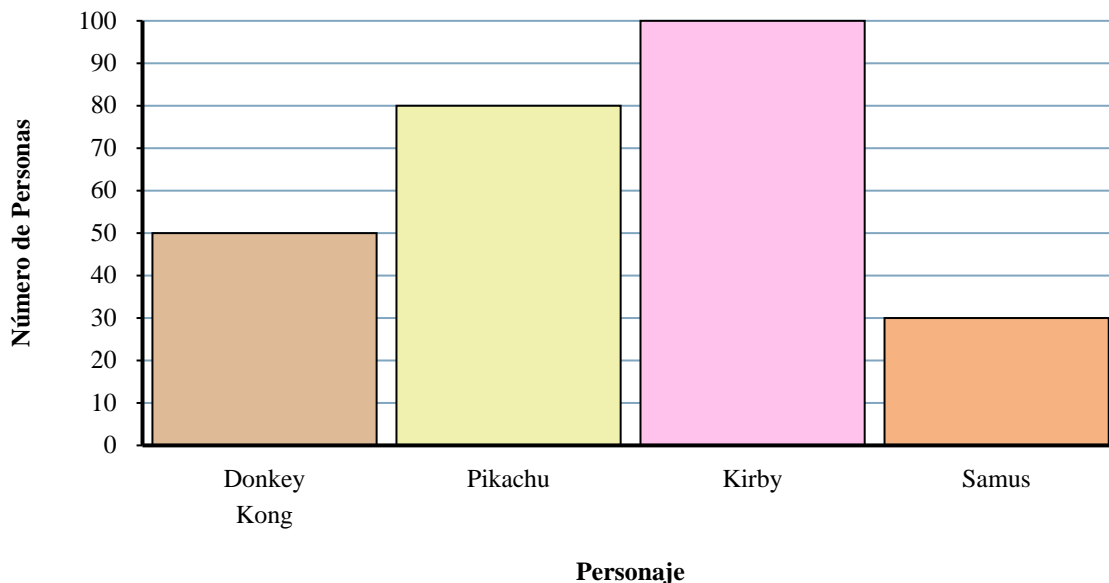
1. _____
2. _____
3. _____
4. _____
5. _____
6. _____
7. _____
8. _____
9. _____
10. _____

- 1) ¿Qué personaje tenía el menor número de personas que dicen que era su favorito?
- 2) ¿A más gente le gusta Kirby o Samus?
- 3) ¿A cuántas personas le gusta Pikachu mas?
- 4) ¿Cuántas personas en total respondieron a la encuesta?
- 5) ¿A menos gente le gusta Samus o Pikachu?
- 6) ¿A cuántas personas menos le gusta Samus que queridas Samus?
- 7) ¿Qué personaje dicen el mayor número de personas que es su favorito?
- 8) ¿A cuántas personas más les gustaba Pikachu que Donkey Kong?
- 9) ¿Cuál es la diferencia en el número de gente que le gusta Donkey Kong y el número que le gusta Kirby?
- 10) ¿Qué personaje dijeron exactamente 100 personas que era su favorito?



Resuelve cada problema.

Personaje de juegos favorito



Respuestas

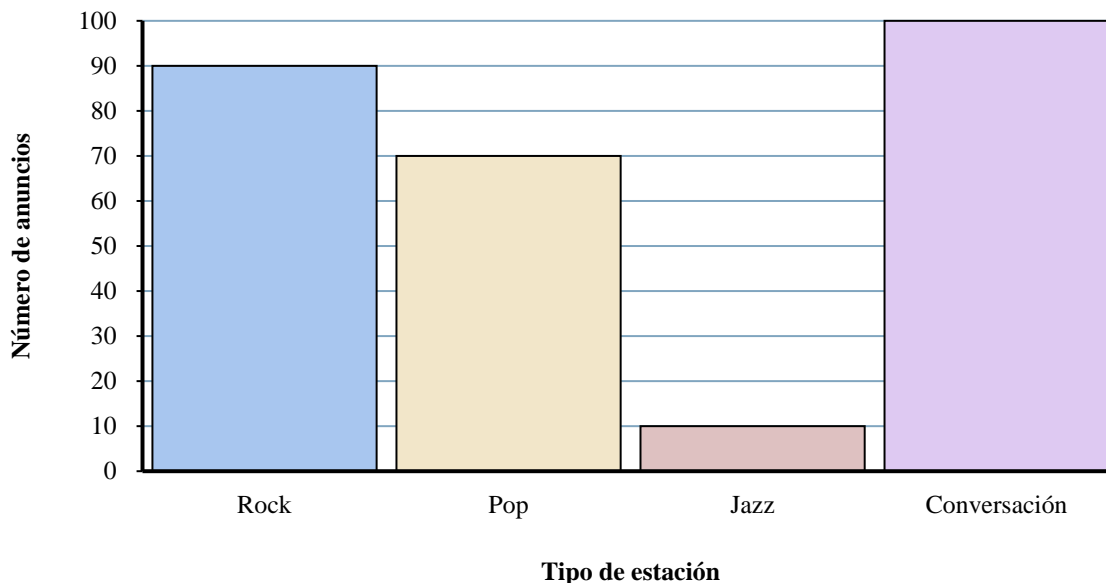
- 1) ¿Qué personaje tenía el menor número de personas que dicen que era su favorito?
- 2) ¿A más gente le gusta Kirby o Samus?
- 3) ¿A cuántas personas le gusta Pikachu mas?
- 4) ¿Cuántas personas en total respondieron a la encuesta?
- 5) ¿A menos gente le gusta Samus o Pikachu?
- 6) ¿A cuántas personas menos le gusta Samus que queridas Samus?
- 7) ¿Qué personaje dicen el mayor número de personas que es su favorito?
- 8) ¿A cuántas personas más les gustaba Pikachu que Donkey Kong?
- 9) ¿Cuál es la diferencia en el número de gente que le gusta Donkey Kong y el número que le gusta Kirby?
- 10) ¿Qué personaje dijeron exactamente 100 personas que era su favorito?

1. **Samus**
2. **Kirby**
3. **80**
4. **260**
5. **Samus**
6. **20**
7. **Kirby**
8. **30**
9. **50**
10. **Kirby**



Resuelve cada problema.

Diferentes estaciones de radio



Respuestas

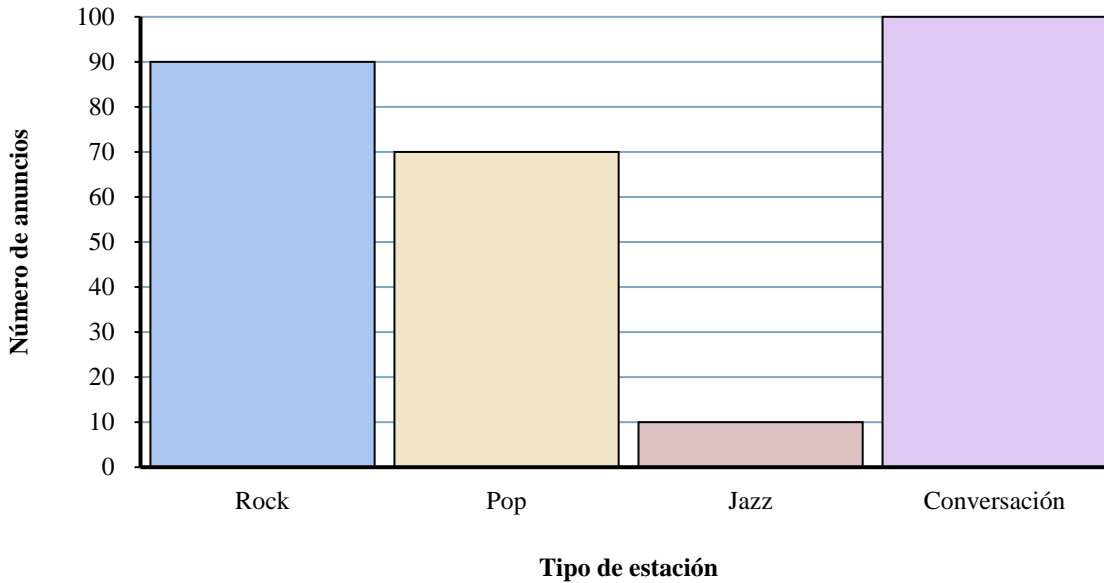
1. _____
2. _____
3. _____
4. _____
5. _____
6. _____
7. _____
8. _____
9. _____
10. _____

- 1) ¿Hubo más anuncios en la estación Jazz o la estación Conversación?
- 2) ¿Cuál es el número total de anuncios en la estación Pop y la estación Jazz?
- 3) ¿Cuántos anuncios menos tuvo la estación Pop que la estación Conversación?
- 4) ¿Qué estación tenía la mayoría de los anuncios?
- 5) ¿Cuántos anuncios más tenía la estación Rock que la estación Pop?
- 6) ¿Cuál es la diferencia en el número de anuncios en la estación Rock y en la estación Conversación?
- 7) Hubo un menor número de anuncios en la estación Rock o la estación Jazz?
- 8) ¿Cuántos anuncios estaban en la estación Jazz?
- 9) ¿Qué estación tenía la menor cantidad de anuncios?
- 10) ¿Cuál es el número total de anuncios en todas las estaciones?



Resuelve cada problema.

Diferentes estaciones de radio



Respuestas

- 1) ¿Hubo más anuncios en la estación Jazz o la estación Conversación?
- 2) ¿Cuál es el número total de anuncios en la estación Pop y la estación Jazz?
- 3) ¿Cuántos anuncios menos tuvo la estación Pop que la estación Conversación?
- 4) ¿Qué estación tenía la mayoría de los anuncios?
- 5) ¿Cuántos anuncios más tenía la estación Rock que la estación Pop?
- 6) ¿Cuál es la diferencia en el número de anuncios en la estación Rock y en la estación Conversación?
- 7) Hubo un menor número de anuncios en la estación Rock o la estación Jazz?
- 8) ¿Cuántos anuncios estaban en la estación Jazz?
- 9) ¿Qué estación tenía la menor cantidad de anuncios?
- 10) ¿Cuál es el número total de anuncios en todas las estaciones?

1. **Conversación**
2. **80**
3. **30**
4. **Conversación**
5. **20**
6. **10**
7. **Jazz**
8. **10**
9. **Jazz**
10. **270**