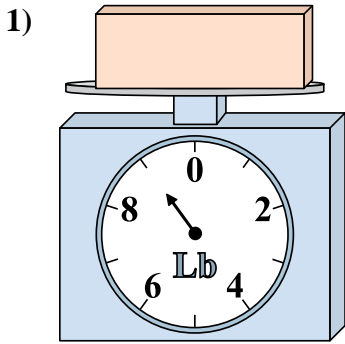


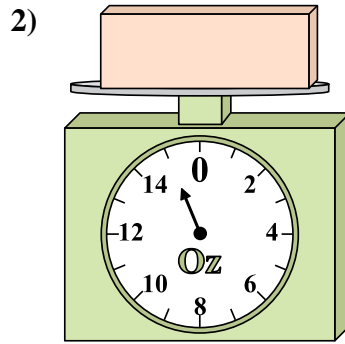


Usar las escalas mostradas para responder a las preguntas.

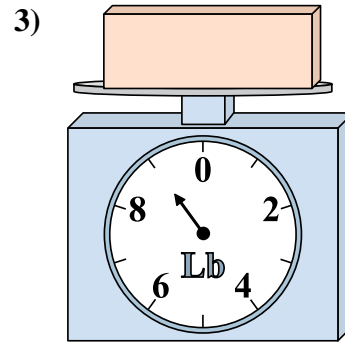
Respuestas



Si usted tiene 7 bloques que son del mismo peso, ¿cuántos libras en total pesan los bloques?

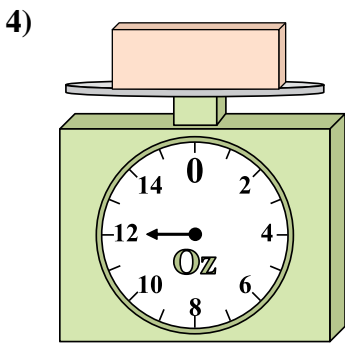


Si el bloque que se muestra fuera 7 onzas más pesado, ¿cuánto pesaría?

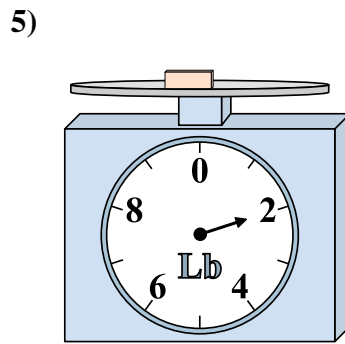


¿Cuál es el peso (en libras) del bloque?

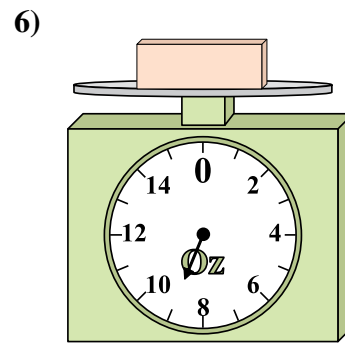
1. _____
2. _____
3. _____
4. _____
5. _____
6. _____
7. _____
8. _____
9. _____



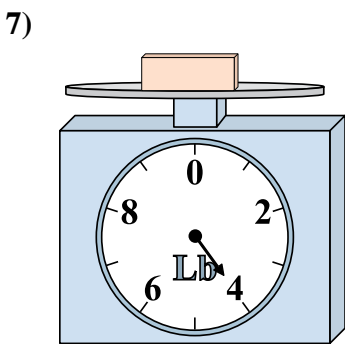
Si el bloque que se muestra fuera 10 onzas más ligero, ¿cuánto pesa?



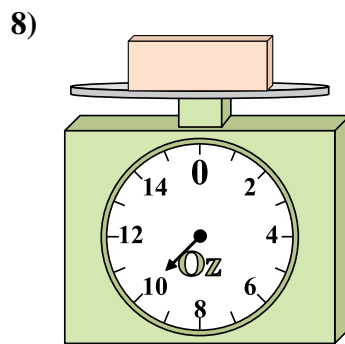
Si el bloque que se muestra fuera 6 libras más pesado, ¿cuánto pesaría?



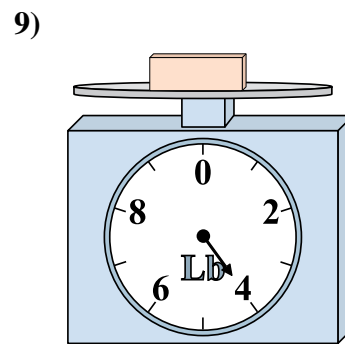
Si el bloque que se muestra fuera 4 onzas más ligero, ¿cuánto pesa?



¿Cuál es el peso (en libras) del bloque?



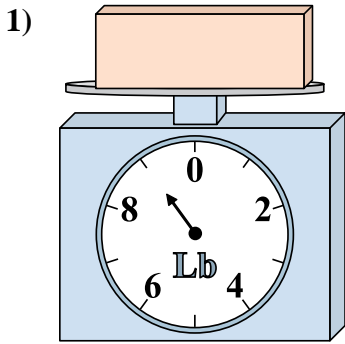
Si usted tiene 7 bloques que son del mismo peso, ¿cuántos onzas en total pesan los bloques?



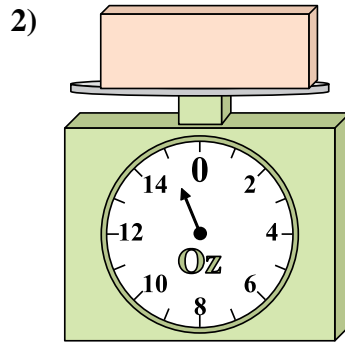
¿Cuál es el peso (en libras) del bloque?



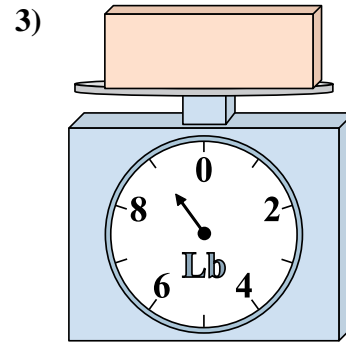
Usar las escalas mostradas para responder a las preguntas.



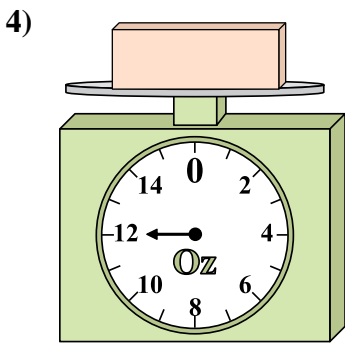
Si usted tiene 7 bloques que son del mismo peso, ¿cuántos libras en total pesan los bloques?



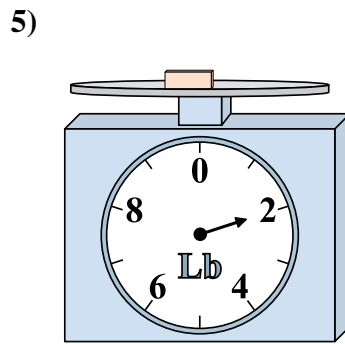
Si el bloque que se muestra fuera 7 onzas más pesado, ¿cuánto pesaría?



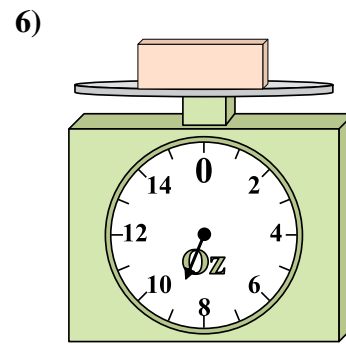
¿Cuál es el peso (en libras) del bloque?



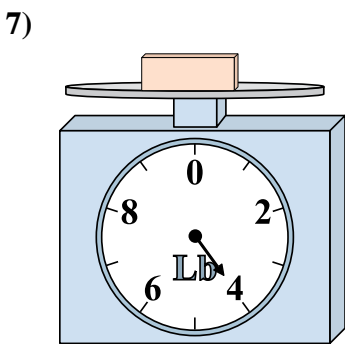
Si el bloque que se muestra fuera 10 onzas más ligero, ¿cuánto pesa?



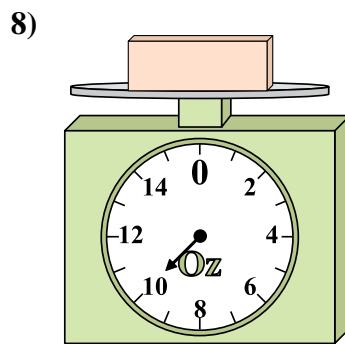
Si el bloque que se muestra fuera 6 libras más pesado, ¿cuánto pesaría?



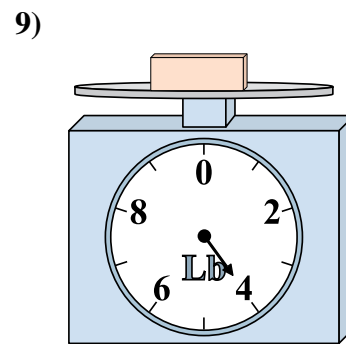
Si el bloque que se muestra fuera 4 onzas más ligero, ¿cuánto pesa?



¿Cuál es el peso (en libras) del bloque?



Si usted tiene 7 bloques que son del mismo peso, ¿cuántos onzas en total pesan los bloques?



¿Cuál es el peso (en libras) del bloque?

Respuestas

- 1. 63
- 2. 22
- 3. 9
- 4. 2
- 5. 8
- 6. 5
- 7. 4
- 8. 70
- 9. 4