



Determina cuál letra mejor representa el peso del objeto.


Respuestas

Onza (oz)

Libra (lb)

Una onza es aproximadamente el peso de una rebanada de pan.

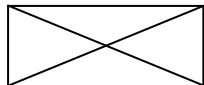
Una libra é mais ou menos o peso de uma lata de vegetais.



Recordar:
Hay 16 onzas en 1 libra.

1. _____
2. _____
3. _____
4. _____
5. _____
6. _____
7. _____
8. _____
9. _____

1)



Sobre

- A. 1 onza
- B. 440 libras
- C. 11 libras
- D. 24 onzas

2)



Monitor

- A. 20 onzas
- B. 20 libras
- C. 0.2 onzas
- D. 1000 libras

3)



Olla

- A. 0.01 onzas
- B. 1.7 onzas
- C. 4 libras
- D. 5 onzas

4)



Barra de pegamento

- A. 1 libra
- B. 2 libras
- C. 2.2 onzas
- D. 15 onzas

5)



Rana

- A. 2 libras
- B. 11000 libras
- C. 2 onzas
- D. 17 onzas

6)



Teléfono

- A. 1 libra
- B. 5 libras
- C. 0.2 onzas
- D. 10 libras

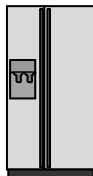
7)



Cepillo de dientes

- A. 1100 libras
- B. 16 onzas
- C. 30 libras
- D. 1 onza

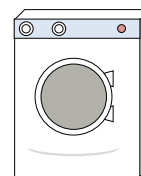
8)



Refrigerador

- A. 20 libras
- B. 7 onzas
- C. 1 onza
- D. 250 libras

9)



Lavadora

- A. 0.2 onzas
- B. 3 toneladas
- C. 165 libras
- D. 16 libras




Determina cuál letra mejor representa el peso del objeto.

Onza (oz)

Libra (lb)

Una onza es aproximadamente el peso de una rebanada de pan.

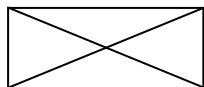
Una libra é mais ou menos o peso de uma lata de vegetais.



Recordar:
Hay 16 onzas en 1 libra.

Respuestas

1)



Sobre

- A. 1 onza
- B. 440 libras
- C. 11 libras
- D. 24 onzas

2)



Monitor

- A. 20 onzas
- B. 20 libras
- C. 0.2 onzas
- D. 1000 libras

3)



Olla

- A. 0.01 onzas
- B. 1.7 onzas
- C. 4 libras
- D. 5 onzas

4)



Barra de pegamento

- A. 1 libra
- B. 2 libras
- C. 2.2 onzas
- D. 15 onzas

5)



Rana

- A. 2 libras
- B. 11000 libras
- C. 2 onzas
- D. 17 onzas

6)



Teléfono

- A. 1 libra
- B. 5 libras
- C. 0.2 onzas
- D. 10 libras

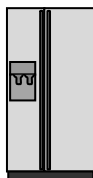
7)



Cepillo de dientes

- A. 1100 libras
- B. 16 onzas
- C. 30 libras
- D. 1 onza

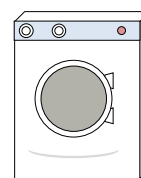
8)



Refrigerador

- A. 20 libras
- B. 7 onzas
- C. 1 onza
- D. 250 libras

9)



Lavadora

- A. 0.2 onzas
- B. 3 toneladas
- C. 165 libras
- D. 16 libras

- 1. **A**
- 2. **B**
- 3. **C**
- 4. **C**
- 5. **C**
- 6. **A**
- 7. **D**
- 8. **D**
- 9. **C**